


第二单元素质测评试卷

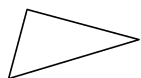
(总分:100分 时间:60分钟)

题号	一	二	三	四	五	六	七	八	九	十	附加题	总分
得分												

一、写出下面各图形的名称。(4分)



(圆)



(三角形)




(正方形)



(长方形)

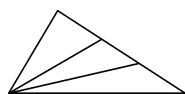
二、数一数,填一填。(22分)

1.

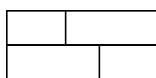


有(7)个三角形,
有(3)个正方形,
有(6)个长方形,
有(7)个圆。

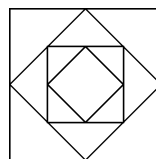
2.



(6)个三角形。

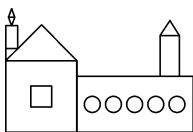


(7)个长方形。



(4)个正方形。

3.



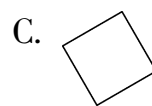
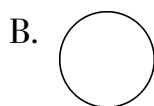

左图中有(3)个长方形,有(2)个正方形,
有(5)个三角形,有(5)个圆。

三、选一选。(10分)

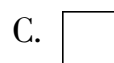

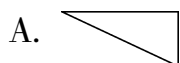
1. 下面图形中,(A)是长方形。



2. 下面图形中,(**C**)是正方形。



3. 下面图形中,(**A**)是三角形。



4. 中有(**A**)个三角形。

A. 10

B. 8

C. 6

5. (**B**)的四条边长度相等。

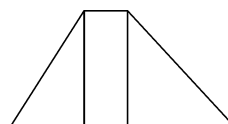

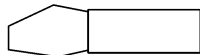
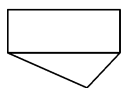
A. 三角形

B. 正方形

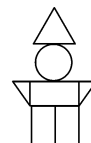
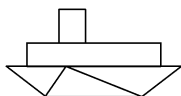
C. 长方形

四、涂一涂。(15 分)

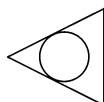
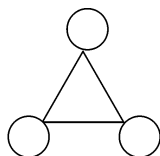
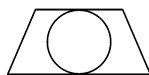
1. 给长方形涂上红色。



2. 给三角形涂上绿色。



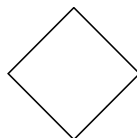
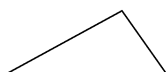
3. 给圆涂上黄色。



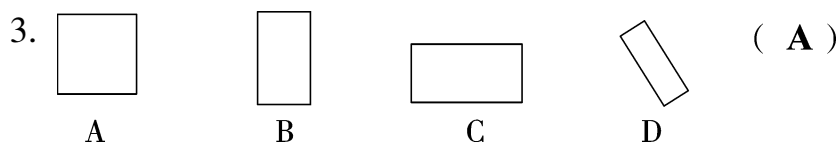
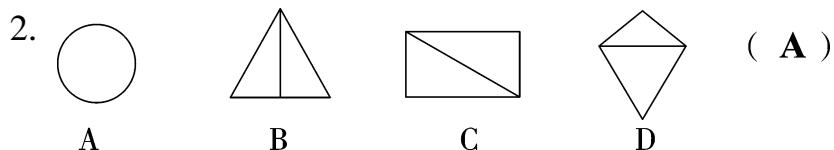
【答案】自己涂一涂。

五、选一选。(选出与其他三个不同的图形,把它的序号填在括号里)(9 分)

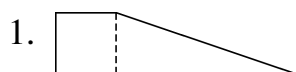
1.



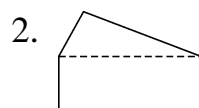
(**B**)



六、沿虚线剪开后,各分成了什么图形?(8分)



(正方)形和(三角)形。



(三角)形和(长方)形。

七、摆一摆,画一画,填一填。(8分)

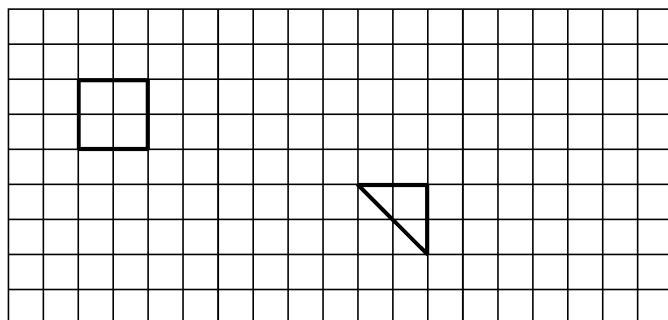
1. 摆一个三角形,至少用(3)根同样长的小棒。

【答案】自己摆一摆,画一画。

2. 摆一个长方形,至少用(6)根同样长的小棒。

【答案】自己摆一摆,画一画。

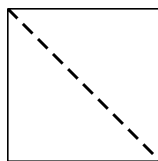
八、在方格纸中画一个正方形和一个三角形。(6分)



(画法不唯一)

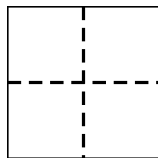
九、折一折,画一画。(折痕用虚线表示)(6分)

1. 用一张正方形纸折出两个三角形。



(方法不唯一)

2. 用一张正方形纸折出四个小正方形。



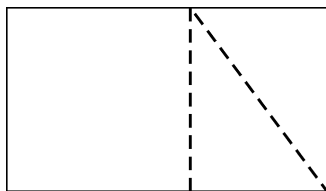
十、剪一剪。(用虚线在图中表示)(12分)

1. 把下面的图形剪成三个三角形。(画出两种不同的剪法)



【答案】自己画一画。

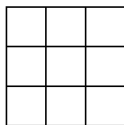
2. 把下面的图形剪成两个三角形和一个正方形。



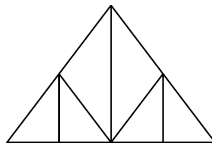
(方法不唯一)

附加题。(10分)

数一数,填一填。



有(**14**)个正方形。



有(**11**)个三角形。